



Questionnaire

Pour répondre aux questions, cherche dans les textes des panneaux et leurs documents.
Pour les termes difficiles, un glossaire est à ta disposition à l'entrée de l'exposition.

Les
Seine-et-Marnais
à l'origine
du département
(1790)

Le département est une division territoriale de la France qui se gère de façon autonome vis-à-vis de l'État.

1. Quelle est la date de création du département ? - - - - -
2. La Seine-et-Marne est créée sur une partie du territoire de 2 anciennes provinces. Lesquelles ?

3. Combien y-a-t-il d'habitants en Seine-et-Marne au début du XIX^e siècle ?

4. Qui est considéré comme un étranger au début du XIX^e siècle ?

Les
Seine-et-Marnais
à l'origine
du département
(1790)

5. Note 3 éléments présents dans les panneaux qui prouvent que la Seine-et-Marne est un département agricole au XIX^e siècle ?

-
-
-

De la terre
à l'industrie
agricole

De la terre
à l'industrie
agricole

6. Qui emploie de nombreux ouvriers belges et polonais en Seine-et-Marne au XIX^e siècle ?

7. Cite un exemple :

8. Cherche dans la frise chronologique des raisons expliquant la venue de belges et de polonais en France à cette période ?

-
-

9. Qu'est-ce qu'un ouvrier saisonnier ?

.....

La grande industrie et le monde ouvrier

Les employés, artisans et commerçants

10. En Seine-et-Marne, au XIX^e et au début du XX^e siècle, quels sont les « grands pourvoyeurs d'emplois » (entoure les bonnes réponses) ?

- | | | |
|----------------|-----------|--------------|
| Administration | Éleveurs | Commerçants |
| Industries | Marchands | Artisans |
| Colporteurs | Mariniers | Usines |
| Armées | Carriers | Cultivateurs |

Les itinérants

11. Cite 2 métiers qui obligent à se déplacer :

•
 •

12. Quelle est la profession de la famille Lecuelle ?

.....

13. Donne la définition de ce métier :

.....

14. À quelle catégorie administrative appartient Paul Briot ?

.....

15. Donne 2 exemples de moyen de contrôle des populations itinérantes :

•
 •

Les artistes et les touristes

16. Entoure sur la carte et note quelques lieux qui deviennent des « points de rencontres et de convivialité » en Seine-et-Marne :

.....

17. Cite ce qui a attiré et ce qui attire les touristes et les artistes en Seine-et-Marne :

.....





18. Donne quelques exemples de soldats étrangers venus combattre en Seine-et-Marne pendant la Première Guerre Mondiale ?

.....

19. Que peut obtenir un alsacien / un lorrain qui s'engage volontairement à combattre pour la France ?

.....

20. Qui est obligé de rester en France pour travailler entre juin 1944 et décembre 1948 ?

.....



21. Précise les événements qui ont pu pousser des gens à quitter leur pays et à venir s'installer temporairement ou définitivement en France :

Pays concernés	Événements
Espagne	
Portugal	
Algérie	



22. À partir de quelle date, les écoles françaises doivent-elles accueillir obligatoirement les enfants étrangers résidant en France ?

.....

23. Combien d'élèves du primaire sont des enfants de travailleurs immigrés dans les écoles de Dammarie-lès-Lys ?


.....

24. Dans quelles écoles sont-ils les plus nombreux ?

.....

25. Quel est le point commun de ces écoles ?

.....



26. Après avoir visionné les témoignages vidéos, note pourquoi des étrangers viennent s'installer en Seine-et-Marne :

.....



27. Quels sont les formalités imposées aux étrangers à partir de la fin du XIX^e siècle ?

-
-
-

28. Quelles sanctions l'État prévoit-il pour ceux qui ne sont pas en règle ?

.....

.....

.....



29. Quels sont les différents motifs de rejet d'une personne étrangère et/ou immigrée ?

.....

.....

.....



30. Depuis 1889, quelles sont les 3 moyens d'obtenir la nationalité française ?

- *par*
- *par*
- *par*



31. Complète ce texte avec les termes suivants : accueil / aide au logement / apprentissage / associations / étrangers / français / solidarité

Des aident à l'.....

et à l'intégration des qui s'installent en France.

Elles proposent l'..... du

et mènent de nombreuses actions de

comme l'.....



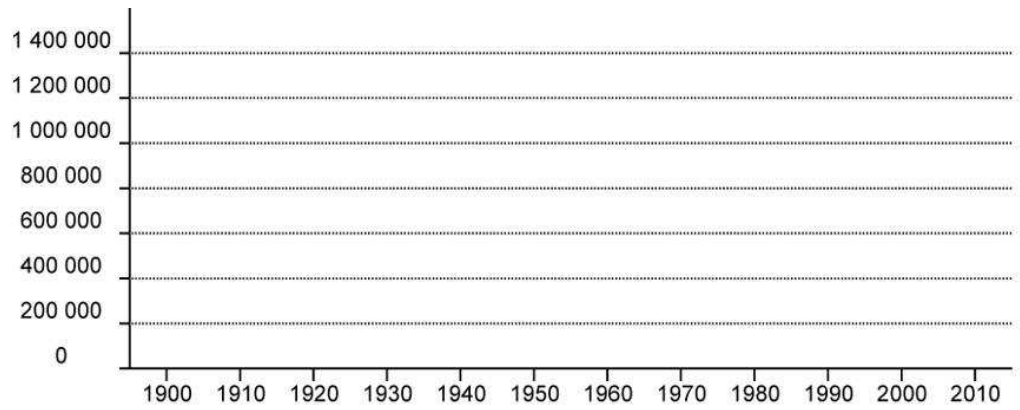
32. Quel est le nombre d'habitants en Seine-et-Marne aujourd'hui ?

.....

33. Quelles sont les 2 raisons pour lesquelles le nombre de Seine-et-Marnais augmente :

-
-

34. Complète la courbe avec 1 point tous les 10 ans :



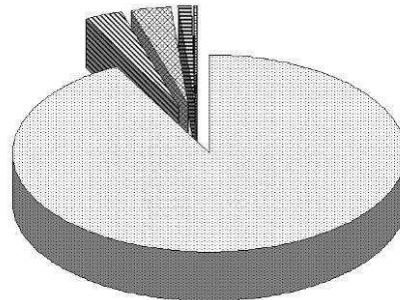
35. Pourquoi dit-on que la Seine-et-Marne est un département jeune ?

.....

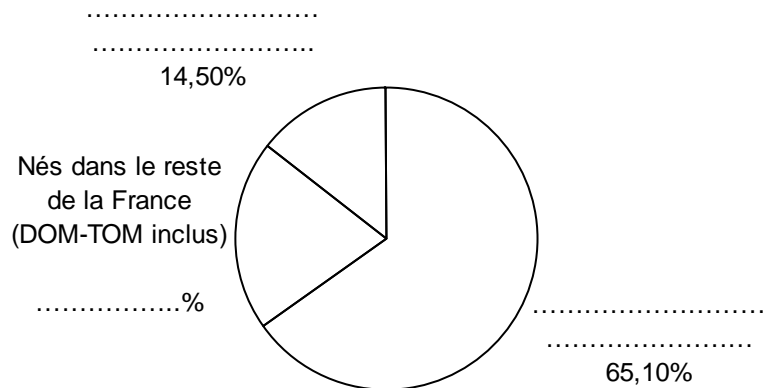
Lieu de naissance
 Nationalité

36. Légende les camemberts suivants :

Nationalités des habitants de Seine-et-Marne

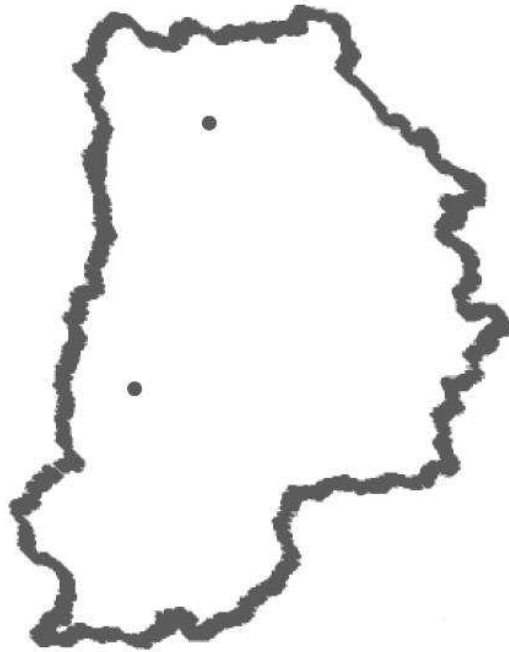


Lieu de naissance des habitants de Seine-et-Marne





37. Sur la carte, place les villes de Meaux et Melun, ainsi que les villes nouvelles. Réalise un schéma à partir de la carte de la densité de population :



- Très dense
- Moyennement dense
- Faiblement dense
- ▲ Villes nouvelles

La partie du département la plus dense se situe
Les zones les plus peuplées sont
Cela s'explique par

38. Pour quelles raisons la Seine-et-Marne attire de nouveaux habitants ?

-
-
-

39. J'habite (à compléter aussi avec les statistiques présentées dans les cadres numériques) :

- un logement acquis, comme % des Seine-et-Marnais
- un logement loué, comme % des Seine-et-Marnais

- une maison, comme % des Seine-et-Marnais
- un appartement, comme % des Seine-et-Marnais

- un logement construit avant 1949, comme % des résidences principales des Seine-et-Marnais
- un logement construit entre et, comme % des résidences principales des Seine-et-Marnais



40. Observe les documents dans les vitrines. D'après toi, qu'est-ce qu'un fac-similé ?

-
-